

**Школьный этап Всероссийской олимпиады школьников  
Технология (девушки) - 10 класс  
2017-2018 учебный год  
Дорогой друг!  
Желаем тебе успеха!**

Отметьте знаком «+» все правильные ответы (один или несколько).

**1. Пищевая ценность продуктов и блюд измеряется в:**

- а) граммах; б) килокалориях; в) килограммах; г) килоджоулях; д) джоулях.

**2. Назовите принципы рационального питания:**

- а) частый прием пищи; б) правильный режим дня;  
в) обильный прием пищи; г) умеренность в употреблении пищи;  
д) раздельное питание; е) разнообразное питание.

**3. Какие витамины способствуют росту человеческого организма:**

- а) витамин А; б) витамин D; в) витамин Е; г) витамин К; д) витамин В<sub>12</sub>.

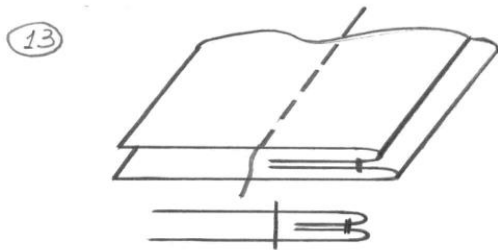
**4. К механическим свойствам ткани относятся:**

- а) прочность; б) сминаемость; в) пылеемкость;  
г) осыпаемость; д) скольжение; е) драпируемость.

**5. Сырьем для синтетических волокон служат:**

- а) целлюлоза из древесины; б) отходы шерсти; в) уголь;  
г) нефть; д) газ; е) отходы угольного производства

**6. Определите группу, к которой относится шов:**

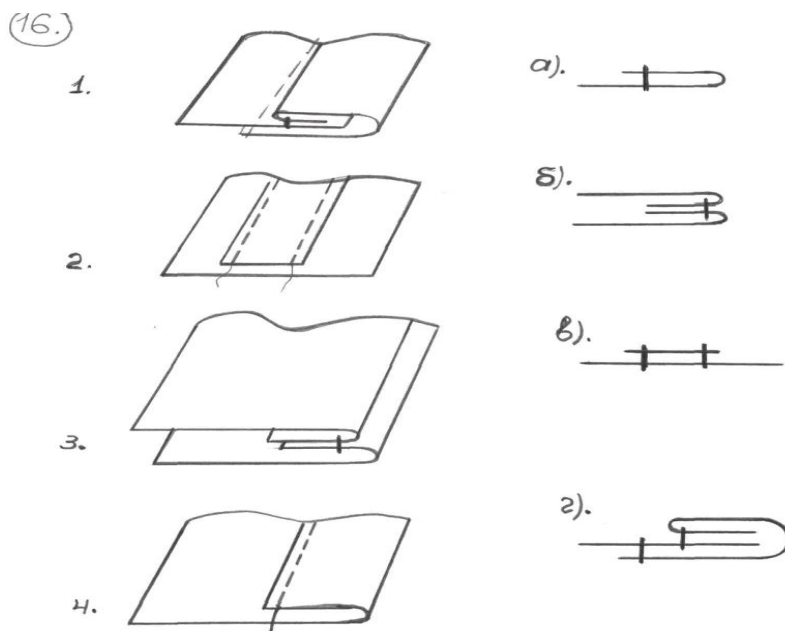


- а) стачной; б) соединительный; в) краевой; г) отделочный

**7. При изготовлении юбки применяются швы:**

- а) стачной; б) обтачной; в) вподгибку с закрытым срезом; г) двойной; д) накладной.


**8. Привести в соответствие с технологическими схемами:**



**9. Величина обтачного шва может быть:**

- а) 0,5-0,7 см      б) 1,5-2,5 см      в) 2,5-3,5 см      г) 3-7 см

**10. Установите соответствие между символом и его значением. Напишите возле цифры из левого столбца соответствующую ей букву из правого столбца.**

1.		а) изделие пригодно для химчистки всеми общепринятыми органическими растворителями
2.		б) утюжить при температуре не более 150°C.
3.		в) кипятить нельзя
4.		г) изделие можно подвергать отбеливанию средствами, содержащими хлор

**11. Установите соответствие между названием мерки и её условным обозначением. Напишите в таблице ответа под цифрами из левого столбца соответствующую ей букву из правого столбца.**

Условные обозначения мерок	Название мерок
1. С <sub>г</sub> II	а) длина спины до талии
2. В <sub>с</sub>	б) обхват плеча
3. С <sub>б</sub>	в) высота сидения
4. О <sub>п</sub>	г) полуобхват груди
5. D <sub>тс</sub>	д) полуобхват талии
6. С <sub>т</sub>	е) полуобхват бедер
7. Ш <sub>с</sub>	ж) ширина спины

Таблица ответа:

1	2	3	4	5	6	7

**Практическая работа для учащихся 10 х классов**

1. Выполнить 3-4 эскиза кухонной прихватки.

2. Изготовить одну прихватку.

Критерии:

1. Соблюдение технологических приемов – 10 баллов
2. Соблюдение Т/Б при работе с инструментами и оборудованием – 10 баллов
3. Качество изделие – 10 баллов
4. Оформление изделия -10 баллов

Итого: 40 баллов